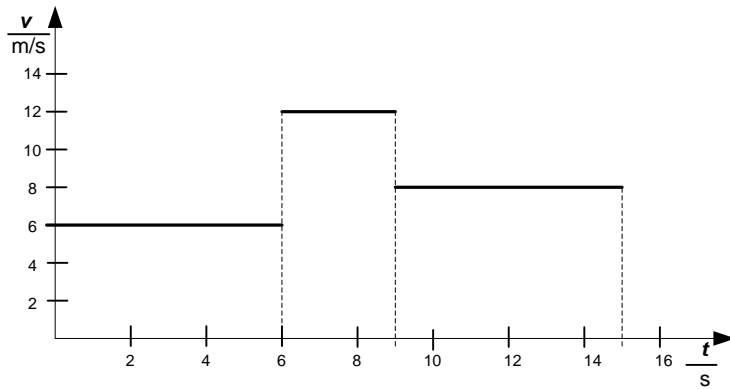
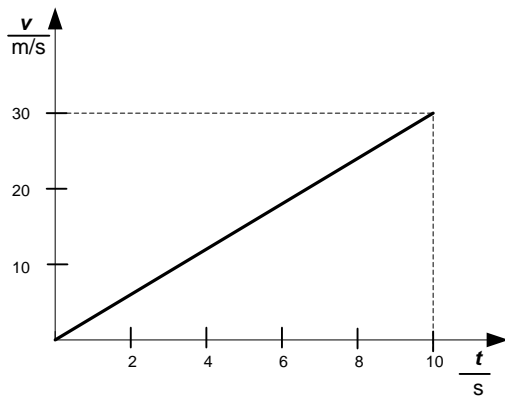


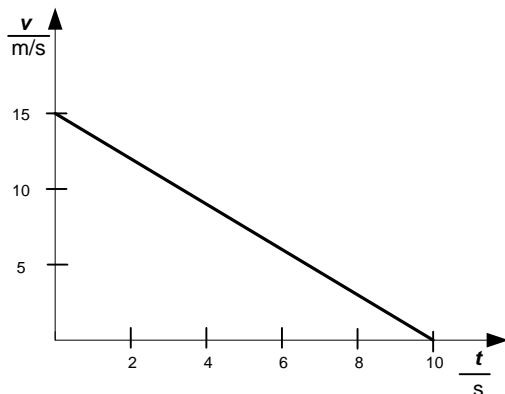
Grafy znázorňují časový průběh rychlosti tělesa.



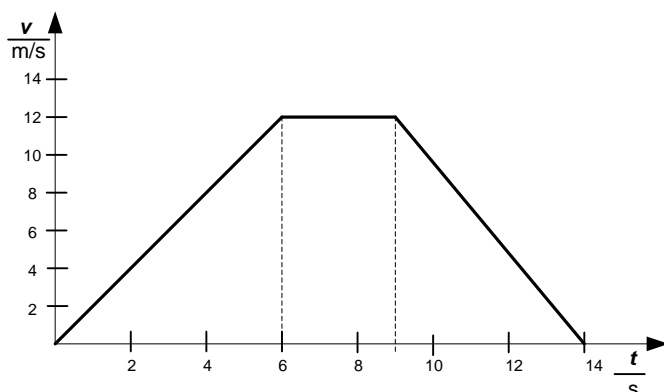
- 1) Popiš průběh pohybu tělesa?
- 2) Jakou dráhu ujede za prvních 6 sekund?
- 3) Jakou dráhu ujede mezi 5. a 10. sekundou?
- 4) Jaká je celková dráha tělesa za 15 s?
- 5) Jaká je průměrná rychlost tělesa za celkovou dobu 15 s?



- 1) Popiš průběh rychlosti při pohybu tělesa.
- 2) Jakou dráhu ujede těleso za 10 s?
- 3) Jakou má těleso rychlost po 5 sekundách a jakou dráhu ujelo za 5 s?



- 1) Popiš průběh rychlosti při pohybu tělesa.
- 2) Jakou dráhu těleso ujede za 10s?
- 3) Urči rychlost tělesa za 2 s a za 6 s.
- 4) Jakou dráhu ujede těleso za 6 s?



- 1) Popiš průběh pohybu tělesa.
- 2) Jakou dráhu těleso ujelo při jednotlivých pohybech?
- 3) Jakou celkovou dráhu těleso ujelo?
- 4) Jaká byla jeho průměrná rychlost?